

# Concepte de nombre enter (I).


---

1. Escriu les temperatures marcades en el següent termòmetre:

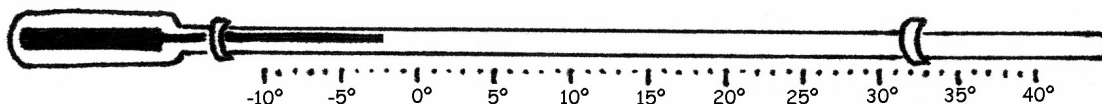
a)



b)

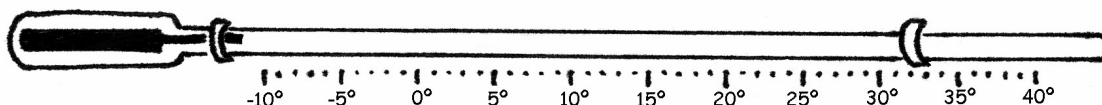


c)

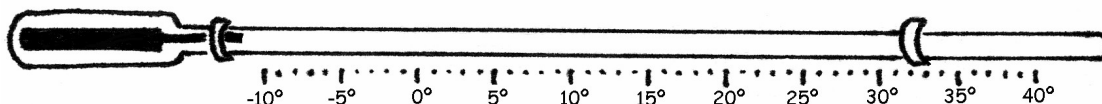


2. Assenyala en el termòmetre les següents temperatures:

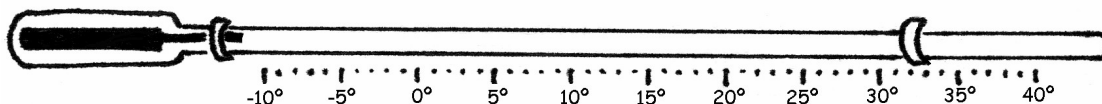
a)  $-3^{\circ}\text{C}$



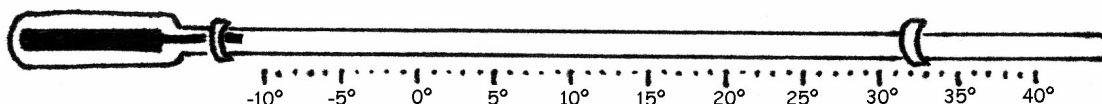
b)  $5^{\circ}\text{C}$



c)  $-5^{\circ}\text{C}$



d)  $-9^{\circ}\text{C}$



3. Ordena de la més gran a la més petita les temperatures següents:

+6 °C, -12 °C, +4 °C, -6 °C, 0°C

4. En un termòmetre de màximes i mínimes, s'observa que la temperatura màxima del dia anterior va ser de 4 °C i la mínima de -7 °C. Determina la diferència de temperatures.

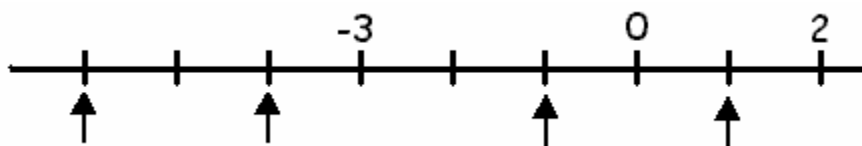
5. Dibuixa un edifici de set plantes i sis soterranis i assenyala els pisos següents:

Primer pis, segon pis, cinquè pis, setè pis, planta baixa, soterrani primer, soterrani quart, soterrani sisè.

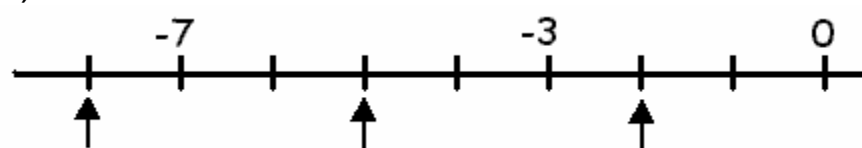
6. En Pere treballa en la quarta planta d'uns grans magatzems i deixa el seu cotxe al soterrani tercer. Quants pisos haurà de baixar per a agafar el seu cotxe?

7. Assenyala quin nombre correspon a cadascun dels punts marcats a la recta:

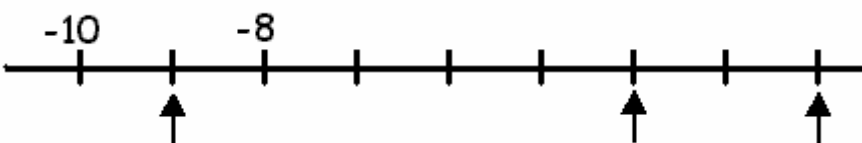
a)



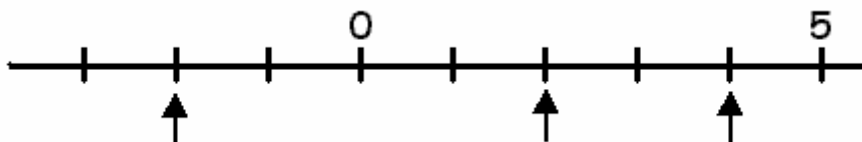
b)



c)

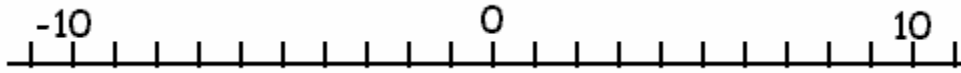


d)



8. Representa els nombres següents en la recta numèrica:

+2, -3, +5, -4, -7, +4, -11, +9, 0



9. Ordena de més gran a més petit:

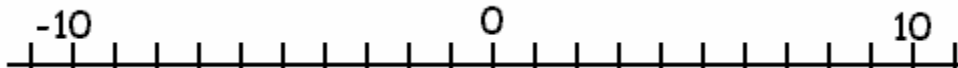
a) -3, 0, -5, +2,

b) +3, +4, -6, -1

c) -5, 0, -3, +3, +5

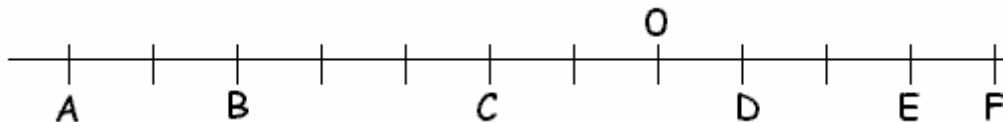
10. Representa sobre la recta els nombres enters següents:

-2, -3, +4, -5, -6, +5 i +6

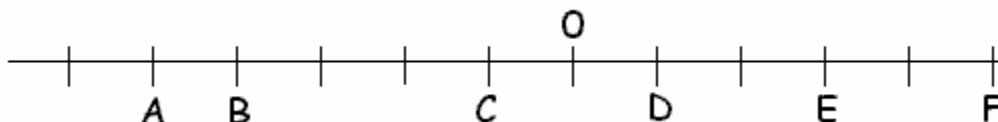


11. Escriu el nombre enter que correspon a cada lletra.

a)



b)



12. Escriu nombres enters:

a) Sis nombres més grans que  $-2$

b) Sis nombres més petits que  $+2$

13. Escriu els nombres enters que s'indiquen.

a) Els nombres enters compresos entre  $-3$  i  $+4$

b) Els nombres enters compresos entre  $-7$  i  $+3$

c) Els nombres enters compresos entre  $-12$  i  $0$

d) Els nombres enters compresos entre  $-20$  i  $-8$

e) Els nombres enters compresos entre  $-32$  i  $-20$

f) Els nombres enters compresos entre  $-58$  i  $-46$

14. Ordena del més petit al més gran la següent sèrie de nombres:

$-7, +12, -12, 0, +4, -1002, +7, -20$

15. Escriu quatre nombres enters més petits que  $+2$  i uns altres quatre més grans que  $-10$ .

16. Calcula la distància que separa un avió que vola a  $1800$  m d'altitud d'un submarí situat a  $170$  m per sota del nivell del mar.